

**UNIVERSITÀ CATTOLICA DEL SACRO CUORE**  
**Prova di selezione per l'ammissione ai**  
**Corsi di Laurea Magistrale a ciclo unico in**  
**Medicina e Chirurgia e in**  
**Odontoiatria e Protesi dentaria**

**NON STRAPPARE**  
**L'INVOLUCRO DI PLASTICA PRIMA CHE VENGA**  
**DATO IL SEGNALE DI INIZIO DELLA PROVA**

Incollare sulla scheda delle risposte  
il codice a barre sottostante:

Codice questionario



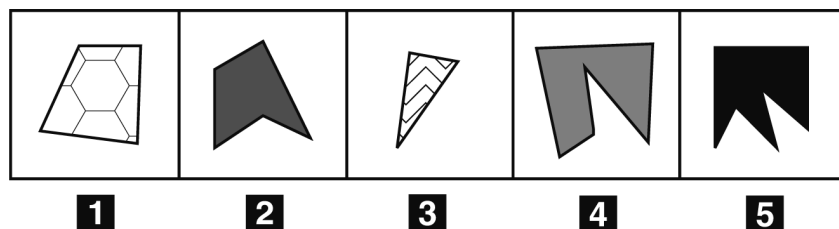
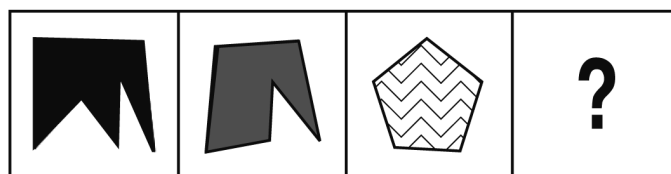


FIGURA SV 09



1 Rispondere al seguente quesito facendo riferimento alla FIGURA SV 09  
Individuare la figura che completa correttamente la serie.

- A** Figura 3
- B** Figura 4
- C** Figura 5
- D** Figura 2
- E** Figura 1

2 Completare correttamente la seguente successione, utilizzando l'alfabeto italiano: Q; 108; V; 95; D; 82; ?; ?

- A** V; 87
- B** I; 69
- C** L; 70
- D** G; 88
- E** I; 73

3 Quale valore si ottiene dal prodotto fra i 2 risultati delle operazioni seguenti?

$$720 / 360 =$$

$$630 / 210 =$$

- A** 8
- B** 9
- C** 6
- D** 10
- E** 4

4 Un gioco ha le seguenti regole: se un numero è divisibile per 5 vale 4 punti; se è divisibile per 8 vale 3 punti. In base a tali regole, quale dei seguenti numeri vale di più?

- A** 56
- B** 24
- C** 96
- D** 48
- E** 95

## GRIGLIA DELLE RISPOSTE ESATTE

R1	R2	R3	R4	R5	R6	R7	R8	R9	R10	R11	R12	R13	R14	R15	R16	R17	R18	R19	R20
E	B	C	E	C	C	D	B	D	E	A	A	E	B	B	E	C	B	D	D

R21	R22	R23	R24	R25	R26	R27	R28	R29	R30	R31	R32	R33	R34	R35	R36	R37	R38	R39	R40
B	B	C	B	A	B	E	D	E	E	B	D	E	B	E	D	D	A	E	B

R41	R42	R43	R44	R45	R46	R47	R48	R49	R50	R51	R52	R53	R54	R55	R56	R57	R58	R59	R60
C	B	E	C	D	D	B	C	C	C	C	E	A	B	A	E	D	A	A	B

R61	R62	R63	R64	R65	R66	R67	R68	R69	R70	R71	R72	R73	R74	R75	R76	R77	R78	R79	R80
A	D	C	E	C	D	C	E	D	C	B	A	A	B	A	B	D	B	A	E

R81	R82	R83	R84	R85	R86	R87	R88	R89	R90	R91	R92	R93	R94	R95	R96	R97	R98	R99	R100
A	D	B	C	E	B	E	D	B	C	B	D	D	E	E	C	E	B	A	B

R101	R102	R103	R104	R105	R106	R107	R108	R109	R110	R111	R112	R113	R114	R115	R116	R117	R118	R119	R120
C	C	E	B	D	C	D	E	D	D	D	C	D	E	A	E	E	D	D	E